

平成31年度

熊本中央高等学校

学力特待 入学者選抜学力検査問題

社 会

時 間 50分

平成31年 1 月23日実施

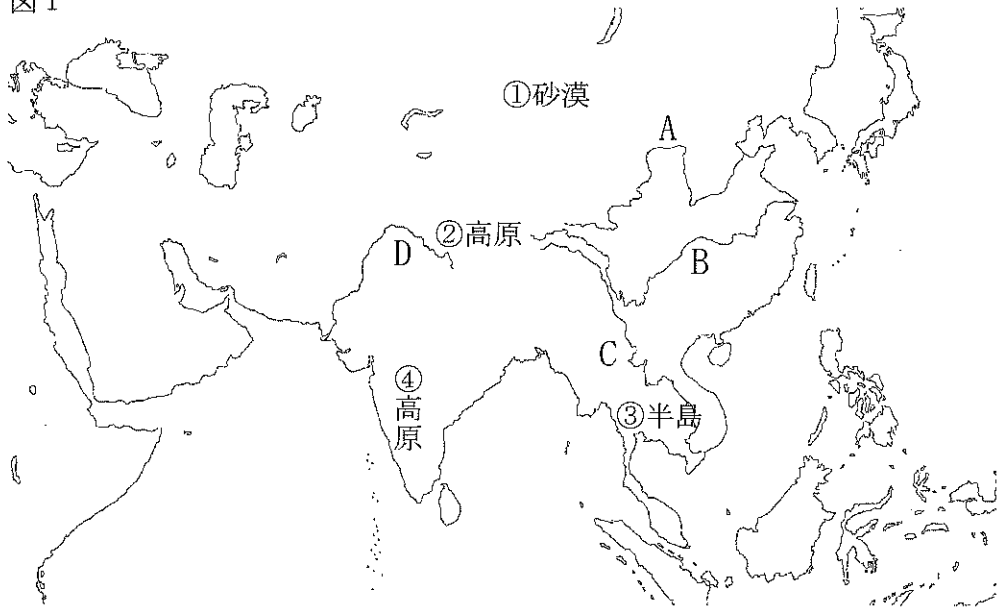
注 意

1. 解答はすべて解答用紙に記入しなさい。
2. チャイムに従って、開始及び終了しなさい。
3. 終了のチャイムが鳴ったら、問題を机上の右に、
解答用紙を左に置いて待ちなさい。
4. 試験監督に用がある場合は、黙って挙手しなさい。

1

図1を参照し、後の問いに答えなさい。

図1



1. 図1のA～Dにあてはまる河川名を次のア～オより選び、記号で答えなさい。

ア. 黄河 イ. 長江 ウ. ガンジス川
エ. メコン川 オ. インダス川

2. 図1の①～④にあてはまる地形名を次のア～キより選び、記号で答えなさい。

ア. ゴビ砂漠 イ. タクラマカン砂漠 ウ. チベット高原
エ. デカン高原 オ. アラビア半島 カ. インド半島
キ. インドシナ半島

3. 図1のアジア東部には、半年ごとに風向きが変わる風が吹くが、この風の名称をカタカナ5文字で答えなさい。

4. 図1の西アジアでは、おもにアラビア語が使われているが、この地域のおもな宗教を次より選び、答えなさい。

キリスト教 イスラム教 仏教 ヒンドゥー教

2

図2・図3を参照し、後の問いに答えなさい。

図2

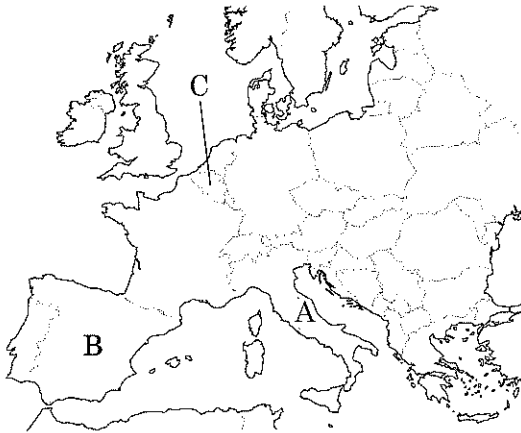
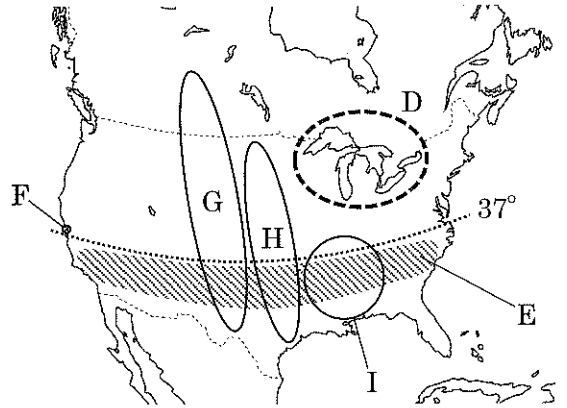


図3



1. 図2の示すA国やB国では、夏は高温で乾燥して冬は雨が多いため、以前からオリーブや小麦を栽培し、羊・やぎを飼育していた。現在ではかんがい施設が整備され、オレンジなども栽培されている。この地域の農業を何と呼ぶかを答えなさい。
2. ヨーロッパ北西部や東部では、小麦やライ麦といった穀物栽培と、豚や牛を中心とした家畜の飼育を組み合わせた農業を行っているが、このような農業を何というかを答えなさい。
3. 1967年に発足したヨーロッパ共同体（EC）は、1993年にヨーロッパ連合（EU）に発展した。EU加盟国のほとんどの国が共通通貨を使用している。この共通通貨を次より選び、答えなさい。

ポンド フラン ユーロ ドル

また、ヨーロッパ連合（EU）本部は、C国の首都にある。この都市名を次のア～エより選び、記号で答えなさい。

ア. ハンブルク イ. ブリュッセル
ウ. ロッテルダム エ. アムステルダム

4. 図3のD地域は、かつてこの国の工業の中心地であったが、経済の中心が情報技術に基づいたサービス産業へと変化するにつれて、工業の中心地も移動した。北緯37度付近から南に位置する温暖なE地域は（①）と呼ばれ、コンピュータやインターネットに関連した（②）産業が発達している。特に、サンフランシスコの南に位置するF（③）には多くの会社が集まっている。また、(①)の工業地帯では、（④）産業も発達している。このような新しい産業の発展には、優秀な人材が必要で、大学などの教育研究機関が大きな役割を果たしている。

（①）～（④）にあてはまる語句を次より選び、答えなさい。

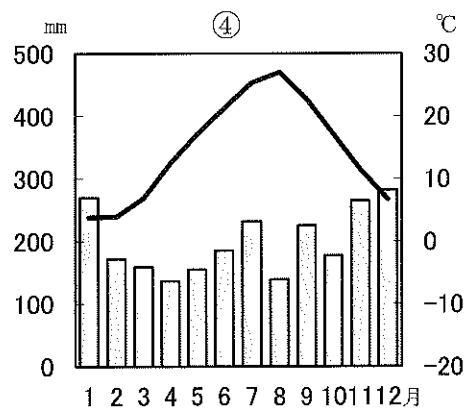
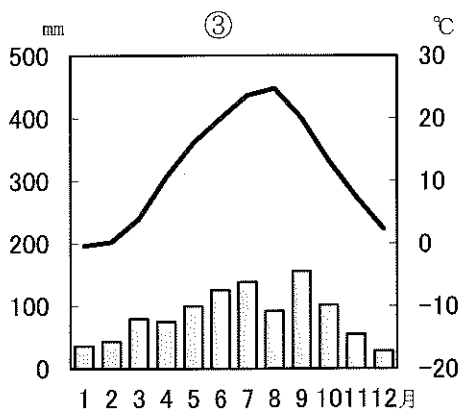
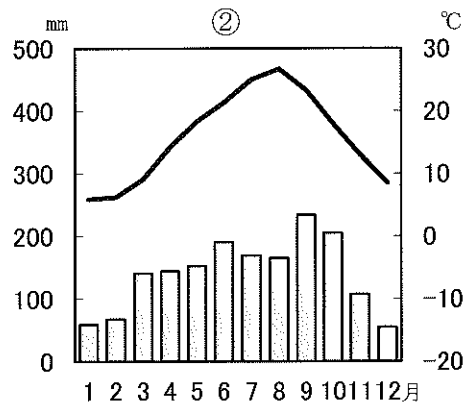
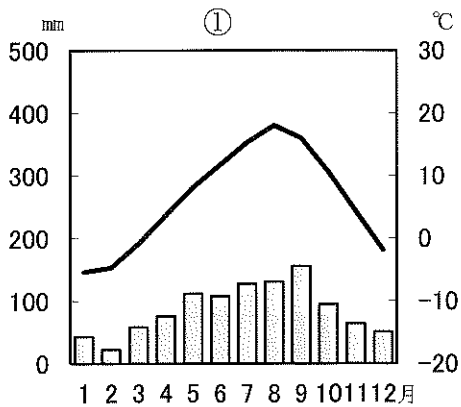
情報技術	航空宇宙	自動車	シリコンバレー
サンベルト	五大湖周辺		

5. 図3の示す（G）（H）（I）のそれぞれの地域は、アメリカ合衆国の農業の中心地で適地適作がおこなわれており、家族経営から企業的な農業へと変化している。（G）（H）（I）にあてはまる農業地域名を答えなさい。

3

後の問いに答えなさい。

1. 日本が、1月1日の午前9時の時、イラクのバグダッドは、何月何日の何時かを計算して答えなさい。ただし、日本（明石市）東経135度・イラク（バグダッド）東経45度で計算しなさい。
2. 日本（明石市）とアメリカのニューヨークの時差を計算して、答えなさい。ただし、日本（明石市）東経135度・アメリカ（ニューヨーク）西経75度で計算しなさい。
3. 次の①～④の都市の雨温図と、気候・気象の説明文の特徴に最もあてはまる都市を後の語群より選び、答えなさい。

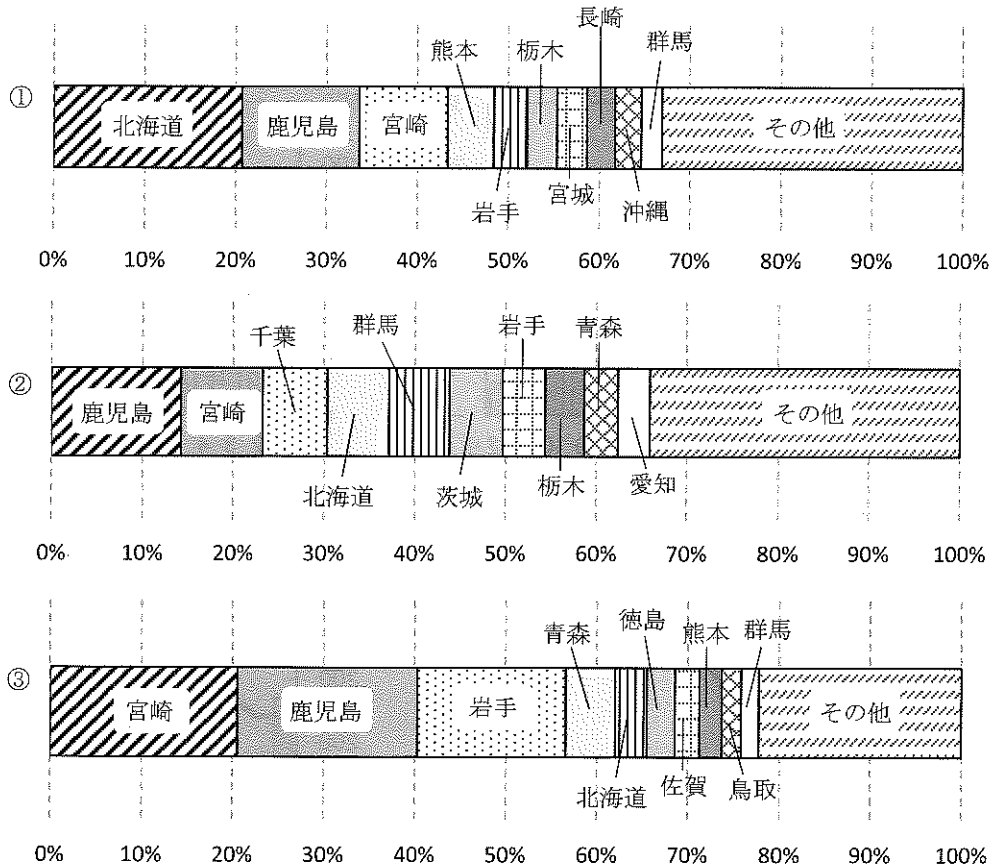


(気象庁ホームページデータ資料より)

- ①沿岸を流れる親潮の影響で、夏でも低温の日が続く。
- ②夏は南東の季節風が太平洋から吹き込むことで降水量が多くなることが特徴である。
- ③内陸に位置しており、他地域と比べて夏と冬の格差が大きい。
- ④冬の北西季節風の影響を強く受ける豪雪地帯となっている。

札幌 釧路 横浜 松本 金沢 岡山

4. 次の①～③は、畜産物の飼育数の都道府県別割合である。それぞれにあてはまるものをア～エより選び、記号で答えなさい。



(『地理データファイル2018年度版』より)

ア. 乳牛 イ. 肉牛 ウ. 豚 エ. 肉用若鶏 オ. 羊肉

4

次の文を読んで、下の問いに答えなさい。

平氏滅亡後、源頼朝と弟の（ 1 ）が対立し、（1）を捕らえる事を名目に朝廷に強く迫り、[ア] 年に、国ごとに（ 2 ）を、荘園や公領ごとに（ 3 ）を設置する事を認めさせた。こうして源頼朝は、本格的な武士の政権である鎌倉幕府を開く。

1189年、藤原泰衡により（1）は襲撃され死去し、藤原泰衡も源頼朝により滅ぼされ、（ 4 ）合戦以降、約100年間栄えた①奥州藤原氏も終焉した。[イ] 年に源頼朝は、②征夷大將軍に任じられ、政治制度を整備していく。將軍に忠誠を誓った武士を（ 5 ）と称し、將軍は（5）に対して、先祖伝来の土地を保護したり、功績に応じて新しい土地を与えたりした。このような行為を（ 6 ）と呼ぶ。また、（5）は京都の天皇や、鎌倉の將軍の警備をしたり、戦に際しては軍役を果たす事を行った。これを（ 7 ）という。

1199年、源頼朝死去後2代將軍に任じられたのは、（ 8 ）である。常軌を逸した振る舞い等もあり、祖父である（ 9 ）と対立し惨殺された。その後、3代將軍になったのは、（8）の弟にあたる（ 10 ）であった。祖父の（9）は、將軍を補佐する執権の地位を得て、政治の実権を握ろうとするが、その後廃されて息子の（ 11 ）が2代執権となる。（10）は趣味の和歌に没頭し③『金塊和歌集』という作品も残している。

1219年（10）が、鶴岡八幡宮にて甥の公暁に暗殺され、その後、公暁も殺され源頼朝の直系は断絶した。その後、鎌倉幕府は執権（11）が中心となって進んでいくが、[ウ] 年、朝廷の回復を目論む（ 12 ）が、幕府を倒す兵をあげる。幕府も源頼朝の妻に当たる（ 13 ）の訴えなどで結束し、京都に攻め上り、朝廷軍を破った。この戦いを（ 14 ）という。（12）は隠岐に流されその後、京都の朝廷監視をするための役所として（ 15 ）が設置された。この戦後、京都の朝廷と鎌倉の幕府という二元支配から、鎌倉一元支配へと変わっていく。

1. 上の文の(1)～(15)に適する語句を語群より選び、記号で答えなさい。

あ. 北条政子	い. 北条義時	う. 前九年
え. 源 頼家	お. 源 義経	か. 後三年
き. 後白河上皇	く. 後鳥羽上皇	け. 国 司
こ. 源 義朝	さ. 承久の乱	し. 御 恩
す. 北条時政	せ. 鎮西探題	そ. 北条時宗
た. 日野富子	ち. 応仁の乱	つ. 地 頭
て. 源 実朝	と. 六波羅探題	な. 御家人
に. 守 護	ぬ. 旗 本	ね. 奉 公
の. 莊園領主		

2. 先の文の[ア]～[ウ]に該当する西暦を記しなさい。

3. 先の文①について、奥州藤原氏が拠点とした平泉に残る、当時の代表的建築物を選び、記号で答えなさい。

あ. 平等院鳳凰堂	い. 白水阿弥陀堂
う. 中尊寺金色堂	え. 東大寺南大門

4. 先の文②について、797年にこの称号を得て、802年に蝦夷の長である、阿弭流為《アテルイ》を屈服させた人物の名前を答えなさい。

5. 先の文③について、同じ時期に作られた和歌の本で、(12)の人物が命じてできた本とは何か答えなさい。

5

次の文を読んで、下の問いに答えなさい。

先生：「いよいよ来年は、2回目の東京オリンピック・パラリンピックが行われますね。」

あかり：「1回目はいつあったんですか。」

先生：「1964年にあったのですよ。10月10日に国立競技場で開会式が行われたのだよ。当時の日本は、(1) 成長の時代でね、日本経済は年平均10%程度の成長を続けていたんだよ。東京都心では首都高速道路が作られたり、乗り物としては東京と大阪を4時間でつなぐ(2) が営業開始したのだよ。また、主なエネルギー源も(3) から石油にかわり、製鉄所や石油コンビナートも建設されていくんだよ。」

ななみ：「今の日本の基礎になったのですね。」

先生：「でも良いことばかりではなく、公害問題も深刻化していきます。公害といえば、熊本でも工場がたれ流したメチル水銀が原因の(4) がおこりました。」

けんじ：「今は漁業が行えるまで回復したのですが、被害にあわれた方は、今も苦しんでいますよね。」

先生：「そうだね。公害と言えば、この前教えた日本の公害の原点になった、明治時代の話覚えていますか。」

なおや：「栃木県の(5) 銅山鉍毒事件ですね。」

先生：「そうですね。その時、衆議院議員だった(6) さんが、議会で政府を追及するんだけど、なかなか進展せず、議員を辞めて明治天皇に直訴しようとしたのです。ちなみにこの直訴状は、当時『万朝報』の記者で、1910年大逆事件で処刑された、社会主義者の(7) さんに書いてもらったそうです。この明治の時代も産業革命と言われた時期で、日本人の生活が豊かになる一方で、公害発生というリスクも伴っていたのですね。」

こうた：「華やいだものばかりではなく、それに伴うデメリットもしっかり見しておく必要があるのですね。」

先生：「私たちの身の回りで最近『異変』という言葉や、『想像を超えた』とか『経験した事の無い』などという言葉をよく耳にしますが、発展に伴う損失も少なからずあるのだと思います。いつまでもこの地球環境が、人類にとっての財産になるような思いで、民族や国境を越え世界中の人が共鳴できる平和の祭典としての、オリンピック・パラリンピック大会であって欲しいですね。」

問1. 上の(1)～(7)に当てはまる語句を、答えなさい。

問2. 各省庁のばらばらな公害行政と環境保全施策の一本化のため、1971年に設置された省庁を、答えなさい。

問3. 1965年に、ある都道府県の阿賀野川流域で、熊本県の(4)と同じ事象が確認された。ある都道府県とはどこか、記号で答えなさい。

あ. 富山県 い. 新潟県 う. 三重県 え. 愛知県
お. 福井県

問4. 1880年代から始まった日本の産業革命は、紡績、製糸などの軽工業を中心としていたが、綿糸の輸出量が、輸入量を初めて上回る時期で正しい時期を、記号で答えなさい。

あ. 西南戦争～日清戦争の間
い. 日清戦争～日露戦争の間
う. 日露戦争～第一次世界大戦の間
え. 第一次世界大戦～第二次世界大戦の間

問5. 産業革命により労働者も増加し、労働条件の改善も求められた。そこで、1911年に公布された工場法の規定に当てはまるものを、記号で答えなさい。

あ. 12歳未満の就業禁止
い. 紡績業においては、1日15時間以内の昼夜二交代制
う. 製糸業においては、1日14～18時間まで
え. 労働時間は企業側が自由にできる

問6. 1901年、日清戦争の賠償金を基に、九州に建設された官営の工場を何と
いうか。

6

次の文章を読んで、後の問いに答えなさい。

日本は、第二次世界大戦の反省を踏まえ、平和で民主的な国家を目指すために、^(I)日本国憲法を作成し、第（ア）条において戦争放棄、戦力不保持、国の交戦権の否認を定め、^(II)平和主義を徹底している。

そして、日本は国を防衛するために自衛隊を設置しており、^(III)自衛隊の最高指揮権は内閣総理大臣がもつこととされている。また、近年の自衛隊は国の防衛だけにとどまらず、自然災害時の災害派遣や国際連合の^(IV)平和維持活動など様々な活動を行っている。

一方、日本はアメリカと1951年に（イ）を結び、アメリカと共同で日本の安全を守るために、^(V)アメリカ軍の基地を駐留することを認めており、全国に78カ所の専用基地がある。

1. 文中の空欄アに適する数字及びイに適する条約をそれぞれ答えなさい。
2. 文中の下線部Ⅰについて、公布及び施行の年月日をそれぞれ答えなさい。
3. 文中の下線部Ⅱについて、日本国憲法の基本原理は平和主義と後二つは何か、答えなさい。
4. 文中の下線部Ⅲについて、この原則を何というか、答えなさい。
5. 文中の下線部Ⅳについて、下記から適する略称を選び、答えなさい。

GHQ NGO PKO NPO

6. 文中の下線部Ⅴについて、総面積の約70%が集中している都道府県名を答えなさい。

7

次の文章を読んで、後の問いに答えなさい。

日本国憲法において、国会は国権の（①）であり、唯一の（②）機関として定めてあり、国民の意志を正確に国会に反映させるために様々なⅠ選挙制度が整備されている。また、民主的な選挙の原則には、Ⅱ一定の年齢以上の全ての国民に選挙権が与えられる（③）、一人一票である（④）、候補者に直接投票できる（⑤）、投票を他人に知られないようにする（⑥）の四つなどがある。

さらに、選挙では政党が重要な役割を果たしており、国民から多くの支持を得た政党が（⑦）としてⅢ政権をもち、それ以外の政党は（⑧）として政策批判や責任追及などをする役割を担っている。また、政党は選挙活動など多額の資金を必要とする一方で、企業や団体からの政治家に対する（⑨）は厳しく制限されていることから、各政党へ（⑩）が提供される。

一方、選挙において、国民がどの政党、候補者に投票するかの判断に大きく影響しているのがⅣテレビや新聞といった（⑪）であるが、投票率の低さが課題となっている。そこで、近年では国民の積極的な政治参加のために（⑫）での選挙活動も行われており、Ⅴ民主主義の政治をさらに推し進めるための工夫が施されている。

1. 文中の空欄①～⑫に適する語を下記の語群から選び、記号で答えなさい。

あ. 政党交付金	い. 最高機関	う. 直接選挙	え. 立法
お. 与党	か. 献金	き. 野党	く. 平等選挙
け. 普通選挙	こ. 秘密選挙	さ. マスメディア	
し. インターネット			

2. 文中の下線部Ⅰに関する下記の問いにそれぞれ答えなさい。

- (1) 一つの選挙区で一人の議員を選ぶ選挙制度を何というか、答えなさい。
- (2) 各政党の得票数に応じて政党に議席を配分する選挙制度を何というか、答えなさい。
- (3) 衆議院議員総選挙で採用している選挙制度を何というか、答えなさい。

3. 文中の下線部Ⅱについて、選挙権は何歳以上から認められているか、答えなさい。
4. 文中の下線部Ⅲについて、二つ以上の政党で過半数の議席を確保し政権を担うことを何というか、答えなさい。
5. 文中の下線部Ⅳについて、同じ事象に対し複数の情報源から情報収集し、比較・判断する力が求められているが、それを何というか答えなさい。
6. 文中の下線部Ⅴに関する下記の説明文について、正しいものには○を誤っているものには×を記述しなさい。
 - (1) 直接民主制とは、代表者を選挙で選び、その代表者で構成された議会で物事を決めていくことであり、議会制民主主義とも呼ばれている。
 - (2) 民主政治では、多数決の原理で物事を決定する 경우가一般的であるが、少数意見や反対意見も尊重し、十分に議論し合うことが前提になる。
 - (3) 日本は、間接民主制が基本であるが憲法改正の最終的な決定は国民投票が行われる。